

# Planungsaufgabe

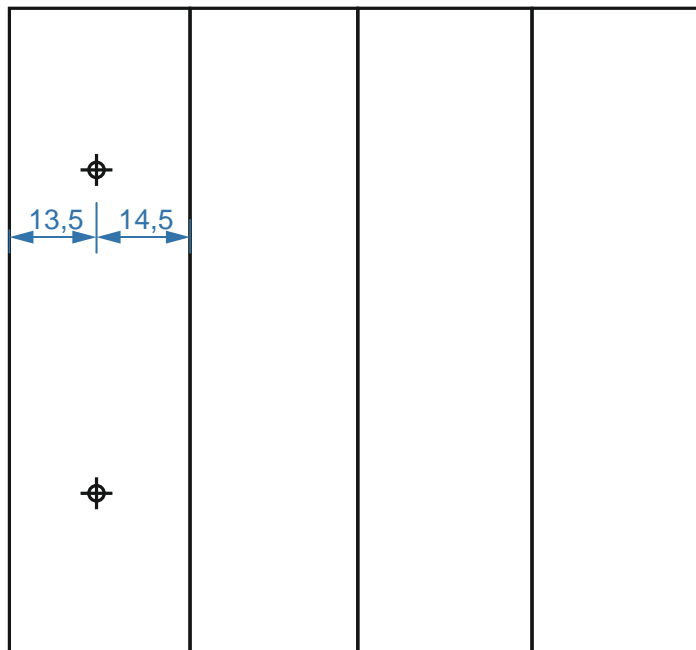
Richtzeit: 30 min

## 1. Aufgabenstellung:

Skizzieren Sie Ihre Schalungslösung im Maßstab 1:10, mit der notwendigen Sicherung gegen Betondruck, in der Vorlage (Draufsicht).

## Aufgabenlösung:

### Draufsicht

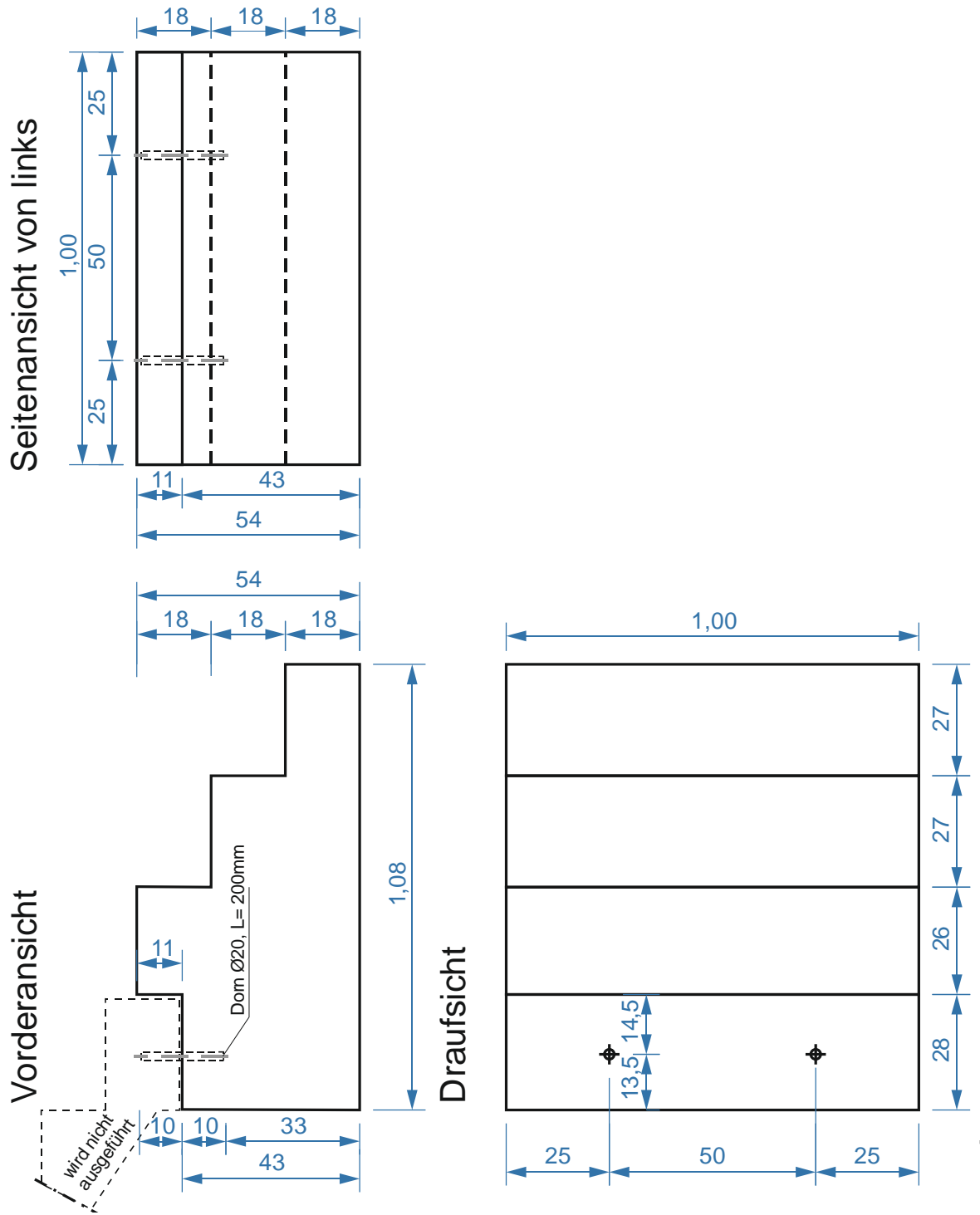


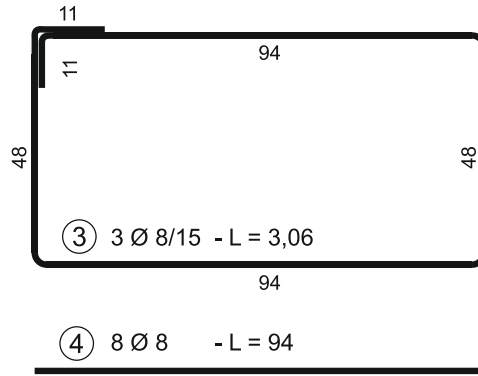
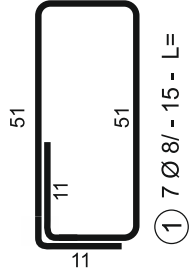
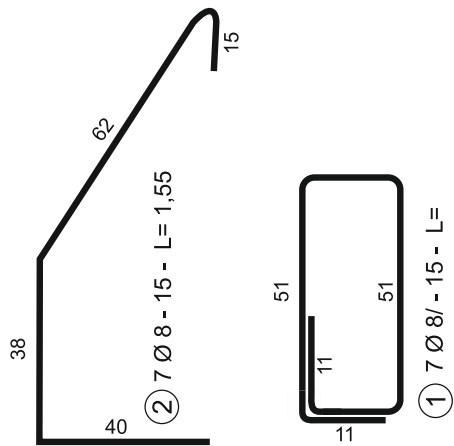
## 2. Aufgabenstellung:

Vervollständigen Sie die Stahlliste für die Stahlbetontreppe.

## Aufgabenlösungen:

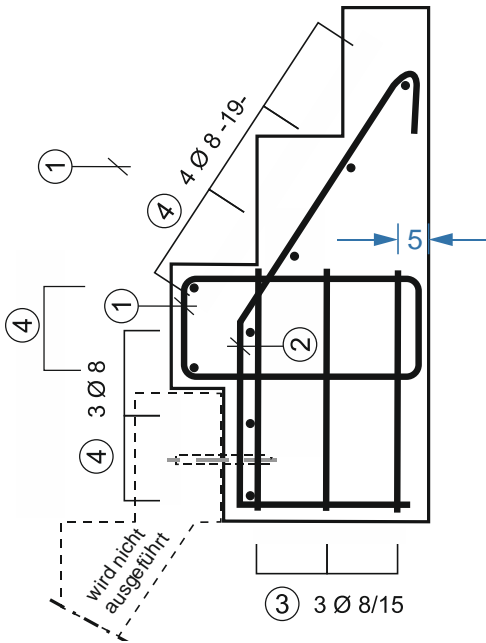
Pos.	Anzahl	Ø	Einzel	Ø 6	Ø 8	Ø 10	Ø 12	Ø 14	Ø 16	Ø 20	Ø 25	Ø 28
1		8										
2		8										
3	3	8	3,06									
4	8	8	0,94									
		8										
		Lfd. m										
		kg/m		0,222	0,395	0,617	0,888	1,21	1,58	2,47	3,85	4,83
		kg										
Gesamtmasse kg				_____ Betonstahl _____ IV S _____.								





④ 8 Ø 8 - L = 94

① 7 Ø 8/15



Draufsicht

