

Planungsaufgabe

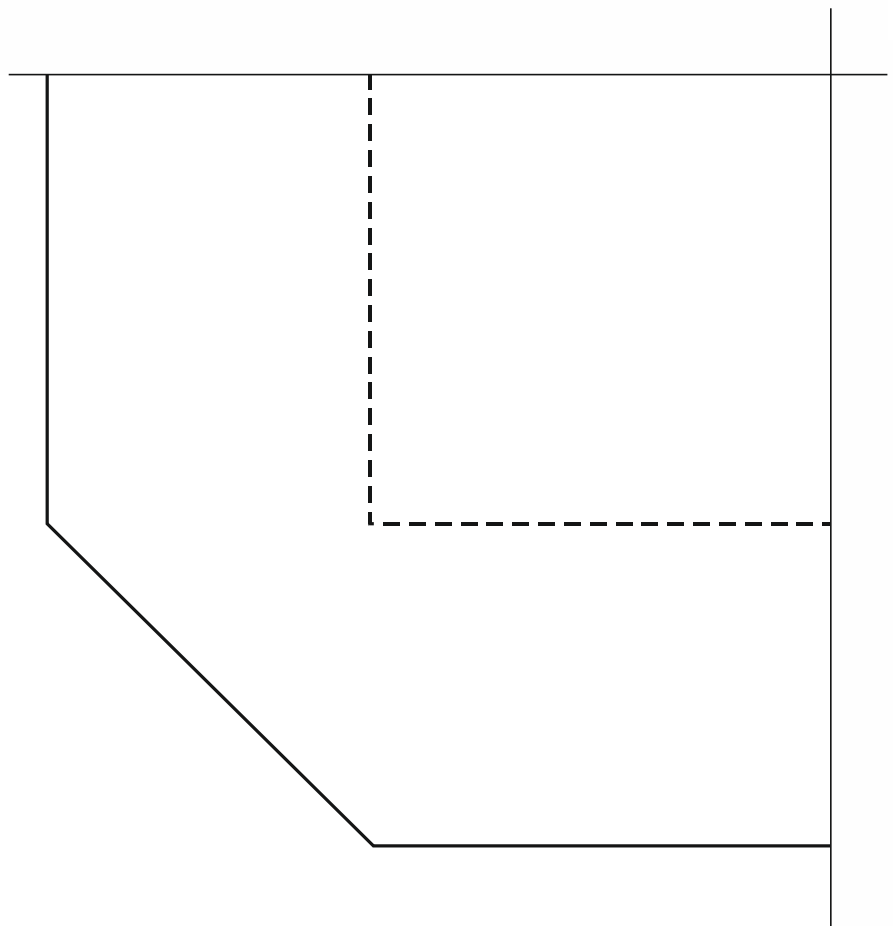
Richtzeit: 30 min

1. Aufgabenstellung:

Zeichnen Sie Ihre Schalungslösung für die Draufsicht des Details A im Maßstab 1:2. Die Betonkante des darzustellenden Details ist vorgegeben.

Hinweis: Drängbretter und nichtsichtbare Kanten müssen nicht dargestellt werden.

Aufgabenlösung:



Teilaufgabe

Schalungslösung

Datum

Nr.

1

Beruf

Betonbauer

Thema


Name Auszubildender

2. Aufgabenstellung:


Zeichnen Sie die Betonseite der übergebauten Schalttafel (für die Vorderansicht) mit vollständiger Bemaßung aller erforderlichen Drängbretter im Maßstab 1:10.
Schalungsstärke = 2,5 cm.

Hinweis: Die unsichtbaren Kanten müssen nicht dargestellt werden.


Aufgabenlösungen:

 Aus- & Weiterbildungszentrum BAU	Aufgabe		Datum	Nr. 1
	Beruf Betonbauer	Thema	Name Auszubildender	

Seitenansicht von links



Vorderansicht



Draufsicht

