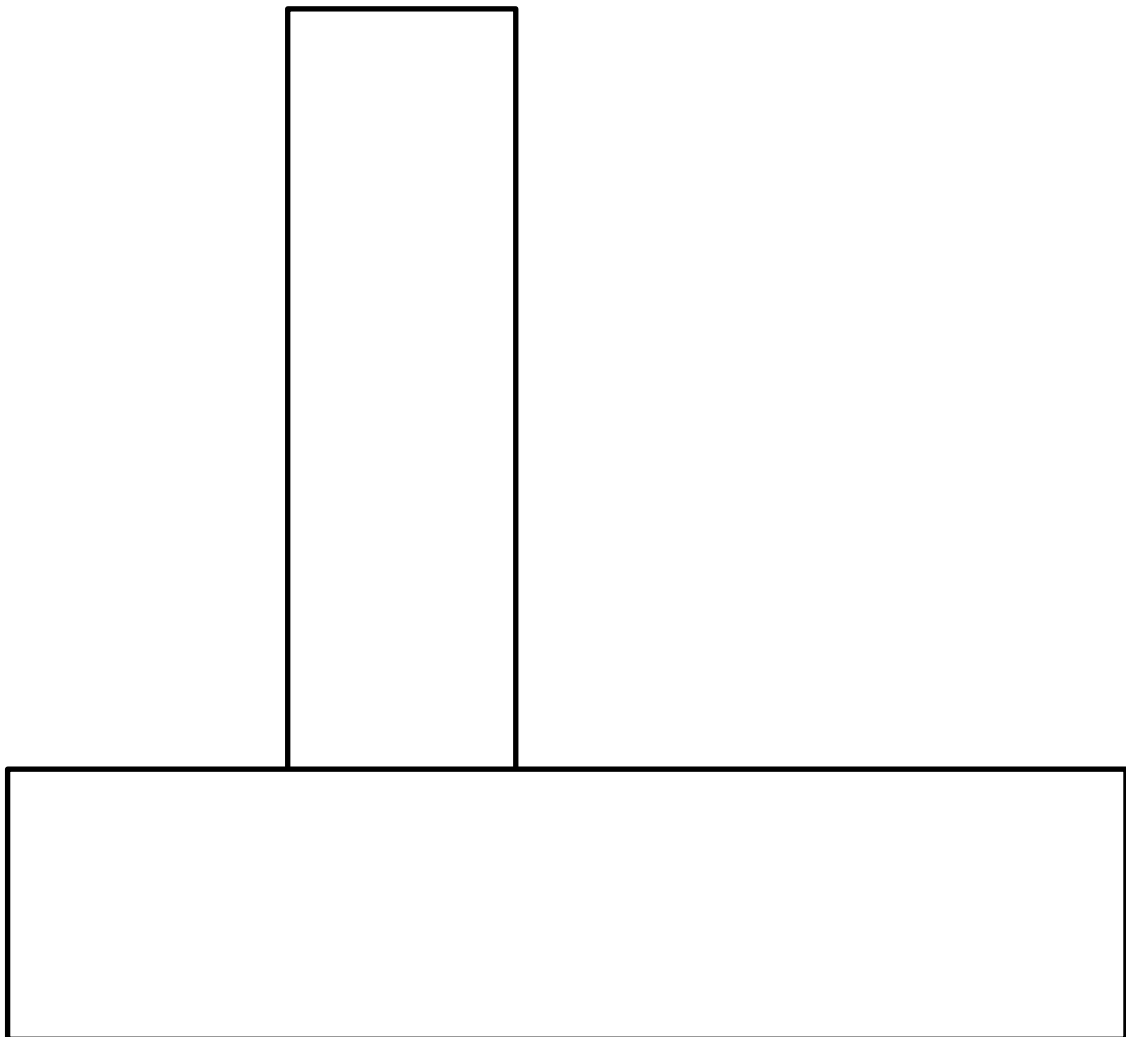



# Planungsaufgabe

Richtzeit: 30 min

## 1. Aufgabenstellung:

Zeichnen Sie an dem Detail nach DIN eine Bauwerksabdichtung ein.  
Benennen Sie die Baustoffe und die einzelnen Arbeitsschritte.  
(Lastfall: Aufstauendes Sickerwasser.)



	Teilaufgabe <b>Aufgabenstellung</b>		Datum	Nr. <b>2</b>
	Beruf <b>Maurer</b>	Thema	Name Auszubildender	


## 2. Aufgabenstellung:

Ganz wichtig ist die Untergrundvorbehandlung für Wandflächen auf die eine Abdichtung aufgetragen werden soll!

Welche Untergrundvorbehandlungen kennen Sie? Nennen Sie 5.


## 3. Aufgabenstellung:

Sie sollen eine Türöffnung (1,01/2,01 m) in einem 24 cm starken Bimsmauerwerk zu mauern. Welches Format wählen Sie, und wie viele Steine müssen Sie vom Lager mitnehmen?

	Teilaufgabe <b>Aufgabenstellung</b>		Datum	Nr. <b>2</b>
	Beruf <b>Maurer</b>	Thema	Name Auszubildender	

#### 4. Aufgabenstellung:

Ein rechteckiges Grundstück ist 96 m lang und 54 m breit. Ein quadratisches Grundstück hat den gleichen Umfang. Um wieviel Quadratmeter ist das quadratische Grundstück größer?

 Aus- & Weiterbildungszentrum BAU	Teilaufgabe <b>Aufgabenstellung</b>		Datum	Nr. <b>2</b>
	Beruf <b>Maurer</b>	Thema	Name Auszubildender	