

Planungsaufgabe

Richtzeit: 30 min

1. Aufgabenstellung:

Die Zeichnung zeigt einen Gehwegteilabschnitt.
Sie erhalten den Auftrag dieses Bauwerk zu erstellen.
Geben Sie die fachlich richtigen Arbeitsschritte zur Erstellung in der Reihenfolge an, in der Sie auch das Werkstück errichten.

2. Aufgabenstellung:


Geben Sie die NHN der Punkte A, B C und D an.

3. Aufgabenstellung:

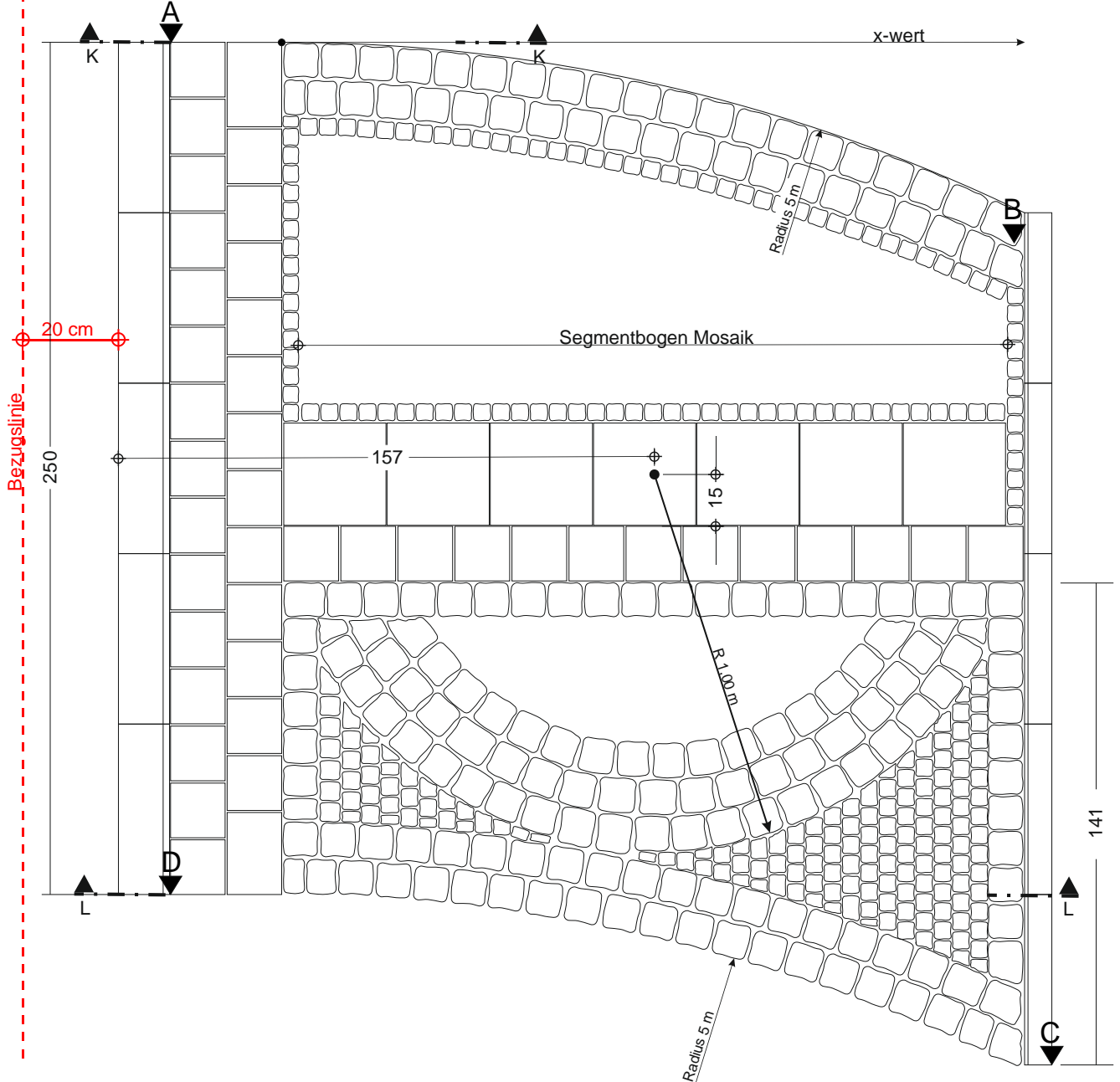
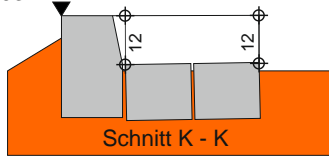
In Ihrem Auftrag ist der Segmentbogen enthalten.
Berechnen Sie die fachlich richtige Segmentbogenbreite und das dazugehörige Stichmaß.

4. Aufgabenstellung:

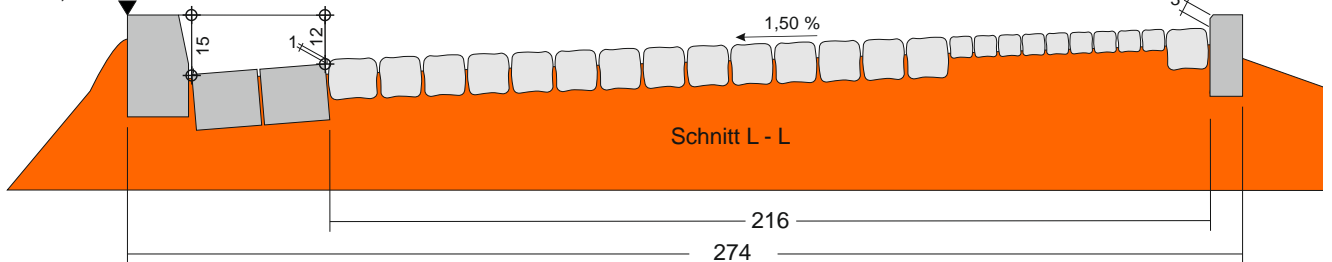
Berechnen Sie für die Bogenabsteckung die erforderlichen y-Werte.
Gegeben: Radius 5 m.

		Datum	Nr. 1
	Beruf Straßenbauer	Thema	Name Auszubildender

NHN 280,934 m



NHN 280,934 m



Zeichnung Gehwegteilabschnitt

Datum

Nr.

1

Beruf

Straßenbauer

Thema

Name Auszubildender