

# Planungsaufgabe

Richtzeit: 30 min

## 1. Aufgabenstellung:

Die Zeichnung auf Blatt 1 (1) zeigt einen Gehwegteilabschnitt.  
Sie erhalten den Auftrag dieses Bauwerk zu erstellen.  
Geben Sie die fachlich richtigen Arbeitsschritte zur Erstellung in der Reihenfolge an, in der Sie auch das Werkstück errichten.

## 2. Aufgabenstellung:


Geben Sie die NHN der Punkte A, B C und D an.

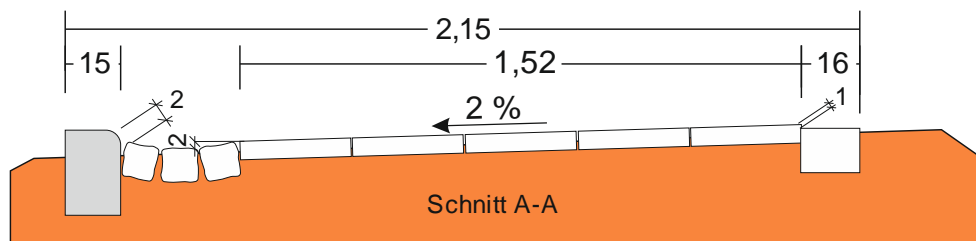
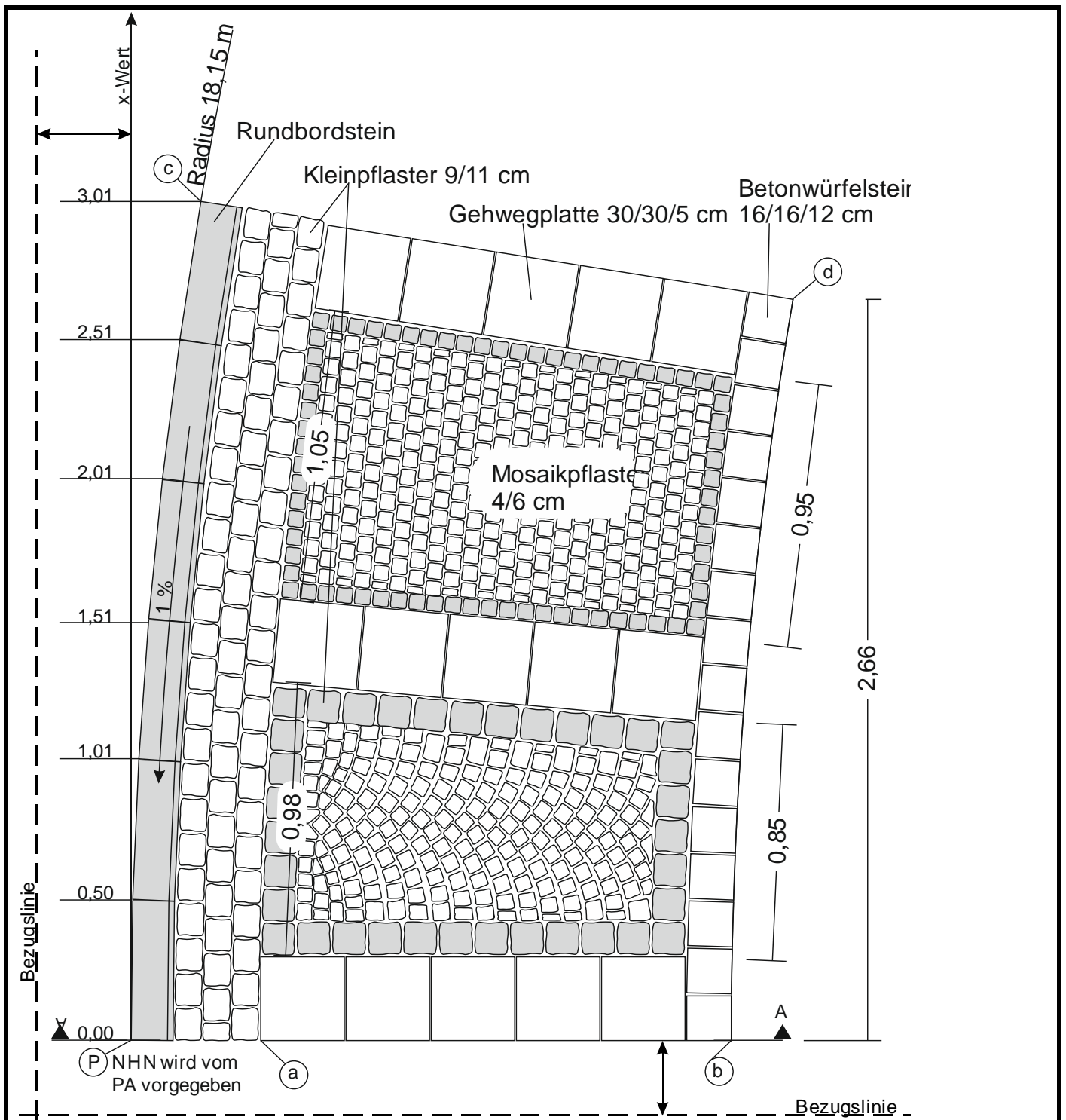
## 3. Aufgabenstellung:


In Ihrem Auftrag ist der Segmentbogen enthalten.  
Berechnen Sie die fachlich richtige Segmentbogenbreite und das dazugehörige Stichmaß.

## 4. Aufgabenstellung:

Berechnen Sie für die Bogenabsteckung die erforderlichen y-werte.  
Gegeben: Radius 18,15 m.

		Datum	Nr. 2
	Beruf Straßenbauer	Thema	Name Auszubildender



	Zeichnung Gehwegteilabschnitt		Datum	Nr. <b>2</b>
	Beruf <b>Straßenbauer</b>	Thema	Name Auszubildender	