


Planungsaufgabe

Richtzeit: 30 min

1. Aufgabenstellung

Erläutern Sie anhand von Stichpunkten, in welcher Reihenfolge Sie das beiliegende Werkstück erstellen und welches Werkzeug Sie für die unterschiedlichen Materialien verwenden würden.

 Aus- & Weiterbildungszentrum BAU	Teilaufgabe Aufgabenstellung		Datum	Nr. 2
	Beruf Straßenbauer	Thema	Name Auszubildender	

2. Aufgabenstellung:

Tragen Sie die fehlenden Maße der Materialien ein:
(Die Materialien sind handelsüblich und werden hier verwendet)

Breite / Länge / Höhe

Rundbord =

Tiefbord =


Wüfelsteine =

Betonrechteckpflaster =

Betongehwegplatte =

3. Aufgabenstellung:

Nennen Sie vier verschiedene Pflasterverbände, die man mit einem normalen Betonrechteckpflaster verlegen könnte


	Teilaufgabe Aufgabenstellung		Datum	Nr. 2
	Beruf Straßenbauer	Thema	Name Auszubildender	

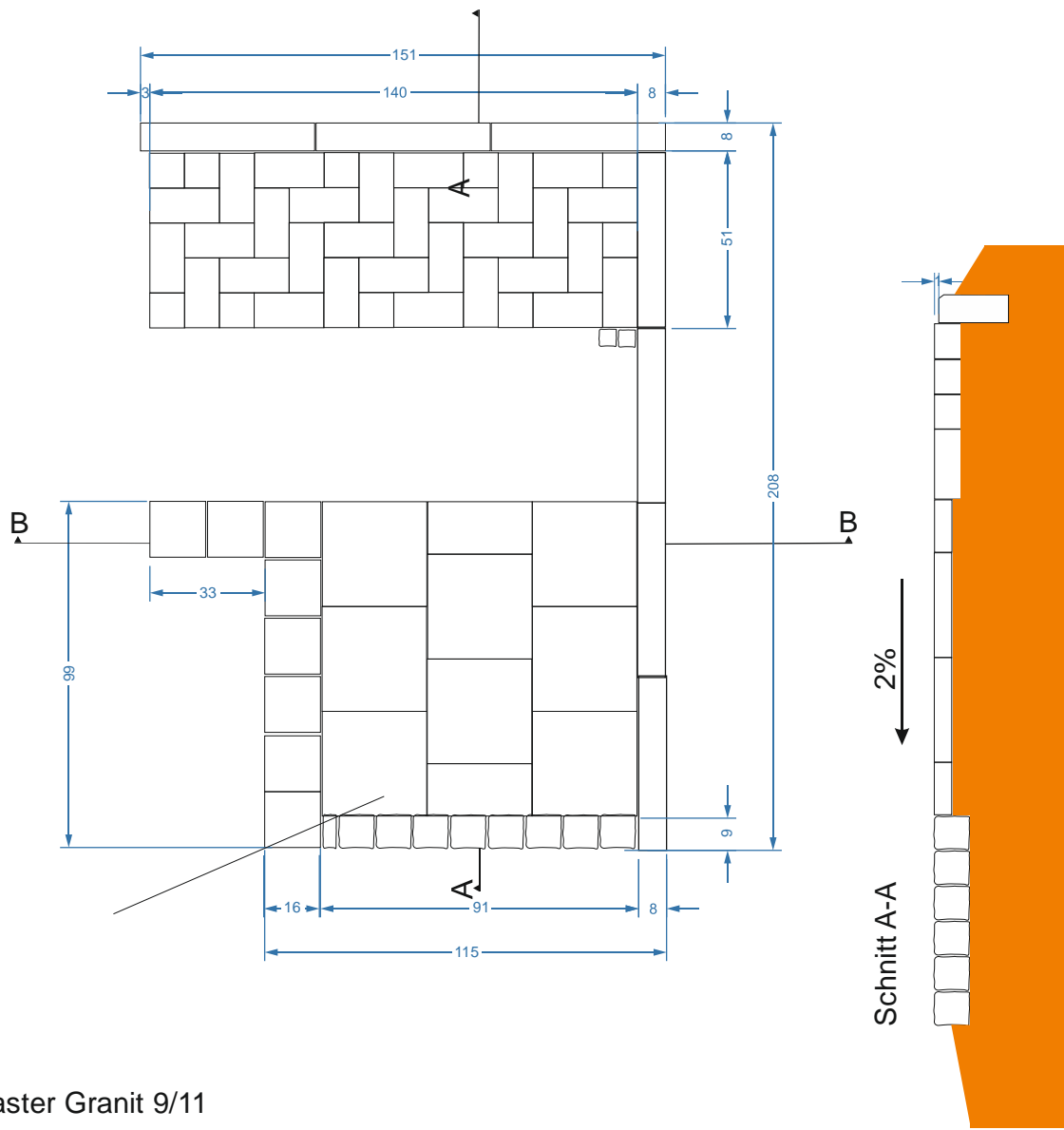
4. Aufgabenstellung:

Um wie viel cm fällt der gesamte Gehwegabschnitt?

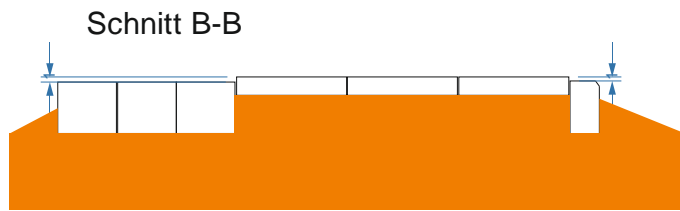
5. Aufgabenstellung:

Nennen Sie zwei Möglichkeiten den rechten Winkel zu überprüfen oder abzustecken.
(Skizze erwünscht)

 Aus- & Weiterbildungszentrum BAU	Aufgabenstellung		Datum	Nr. 2
	Beruf Straßenbauer	Thema	Name Auszubildender	



Kleinpflaster Granit 9/11



Teilaufgabe
Zeichnung

Datum

Nr.
2

Beruf
Straßenbauer

Thema

Name Auszubildender